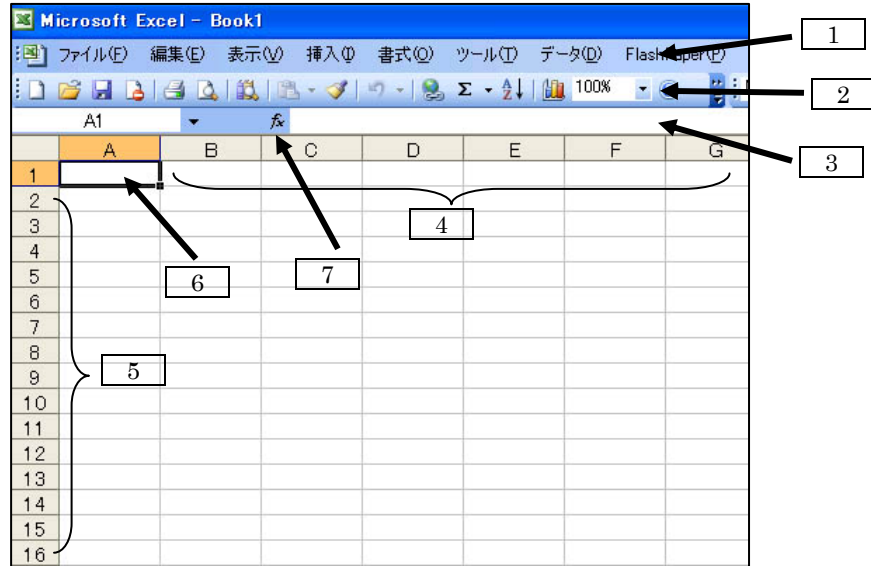


第2学年「情報」2学期期末考査 問題用紙

※解答はマークシート用紙に行うこと。2桁の番号を回答する場合、ひとつのマーク欄に2桁の数字を両方マークする。

マークシートの年・クラス・番号の欄に左詰で例のようにマークすること。
 例) 1年2組3番 → 102003 (番号の右4桁はマークしない)
 また、氏名の欄に「年・クラス・番号・氏名」を記入すること。

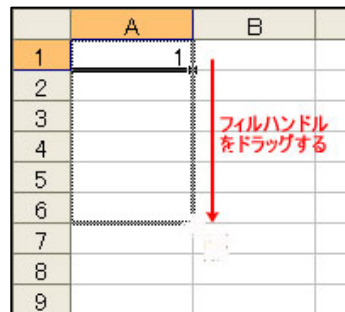
問1 下の図は Excel を起動したときの標準の状態を示したものです。以下に示す各部分の名称を下の語群から選べ。



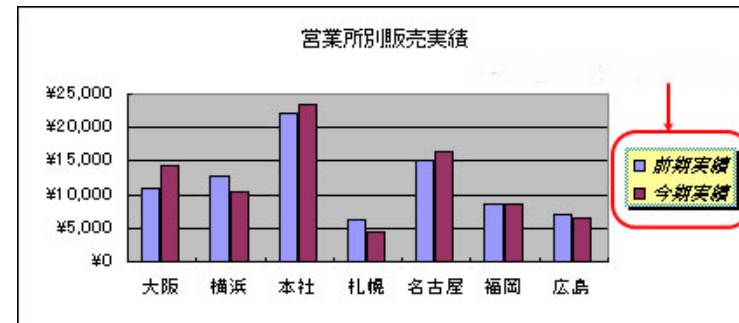
- | | | |
|------------|-----------|-----------|
| ① 行番号 | ② 列番号 | ③ アクティブセル |
| ⑦ 関数の挿入ボタン | ⑤ 数式バー | ⑥ メニューバー |
| ⑧ ツールバー | ⑧ ステータスバー | |

問2 次の Microsoft Excel に関する各問いに答えよ。

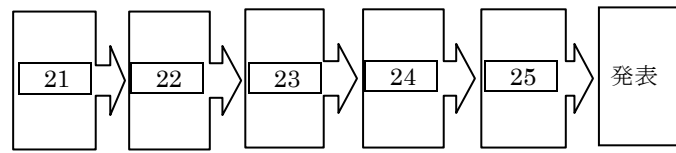
- (1) セルに入力されているデータを修正する方法として間違っているものを1つ選べ。 [8]
- F2キーを押して該当の部分を削除し入力し直す。
 - ダブルクリックして該当の部分を削除し入力し直す。
 - 入力し直したいデータをそのまま入力する。
 - ステータスバーをクリックして該当の部分を削除し入力し直す。
- (2) アクティブセルの左下角にマウスポインタを合わせたときの形を選べ。 [9]
- +
 - ↖
 - +
 - ↕
- (3) 列幅を変更する際に列番号の右側にマウスポインタを合わせたときの形を選べ。 [10]
- +
 - ↖
 - +
 - ↕
- (4) 右の図のような操作をしたとき、セルA2からA6に入るデータは次のどれ。 [11]
- A2に「2」、A3に「3」…と連続データが入る。
 - A2に「3」、A3に「5」となり、A6に「11」が入る。
 - どのセルにも「1」が入る。
 - 何も入らない。



- (5) セルA2に「10」、セルB2に「20」と入力されている。セルC2に「A2+B2」と入力した際、表示されるものを選べ。 [12]
- 30
 - 200
 - 1020
 - A2+B2
- (6) セルA2に「10」、セルB2に「20」と入力されている。セルC2に「=A2/B2」と入力した際、表示されるものを選べ。 [13]
- 30
 - 200
 - 0.5
 - 5%
- (7) セルA2に「10」、セルB2には何も入力されていない。セルC2に「=A2/B2」と入力した際、表示されるものを選べ。 [14]
- #NAME?
 - #NUM!
 - #NULL!
 - #DIV/0!
- (8) セルA2からセルA5に入力されている数値の合計を計算するのに正しい式を選べ。 [15]
- =SAM(A2:A5)
 - =SUM(A2:A5)
 - =SAM(A2;A5)
 - =SUM(A2;A5)
- (9) 平均を計算する関数名として正しいものを選べ。 [16]
- ABERAGE
 - AVAREGE
 - AVELAGE
 - AVERAGE
 - ABELAGE
 - AVARAGE
- (10) 最低の数値を求める関数名として正しいものを選べ。 [17]
- INT
 - MAX
 - IF
 - MIN
 - MIX
- (11) グラフウィザードを利用するためのツールバーのボタンを選べ。 [18]
- -
 -
 -
- (12) グラフウィザードは何ステップある。 [19]
- 2
 - 3
 - 4
 - 5
- (13) 下のグラフの矢印の部分は何という。 [20]
- 凡例
 - 軸
 - タイトル
 - 見出し



問3 下の図は一般にプレゼンテーションを作成する際の手順を示したものです。各段階に当てはまるものを下の語群から選べ。



- | | | |
|-----------|------------|---------|
| ① 調整・変更する | ② スライドを作成 | ③ リハーサル |
| ⑥ 構成を考える | ⑤ デザインを考える | |

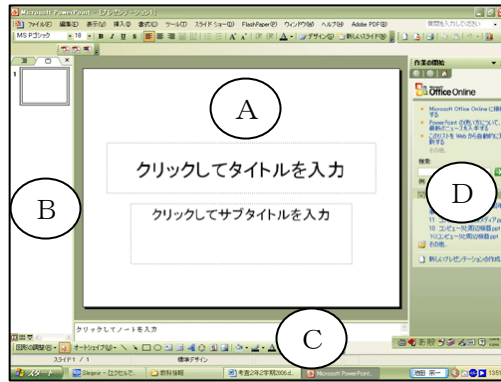
問4 次の文章は Microsoft PowerPoint の画面と操作について説明したものです。文章を読んで、以下の各問いに答えよ。

「PowerPoint を起動すると、右のようなウィンドウが現れる。Aは 26 と呼ばれる部分で、ここで1枚の 27 を作成します。1枚の 27 を作成した後、新しい 27 を作成したいときは、(E) ボタンをクリックすればよい。その際、Dは 28 に切り替わる。

複数の 27 を作成していくと、その一覧がBに表示される。画面全体で一覧を確認したいときは、Bの下にある (F) ボタンをクリックすれば切り替わる。また、Bは 29 表示に切り替えることもできる。

Cは 30 と呼ばれる部分で、発表するときの覚え書きをしておくときに利用できる。

作成が終わって発表するときは、メニューバーの 31 → 32 をクリックするか、Bの下にある (G) ボタンをクリックすると開始される。」



(1) 26 ~ 32 に当てはまる語句を下の語群から選べ。

- | | | |
|-----------|--------------|----------|
| ① ノートペイン | ② スライドペイン | ③ アウトライン |
| ④ 作業ウィンドウ | ⑤ 実行 | ⑥ スライド |
| ⑦ スライドショー | ⑧ スライドのレイアウト | ⑨ ツールバー |

(2) E、Gに当てはまるボタンを下の図からそれぞれ選べ。 F... 33 、G... 34

- | | | | |
|---|---|---|---|
| ① | ② | ③ | ④ |
|---|---|---|---|

(3) Eに当てはまるボタンの名称を下の語群から選べ。 35

- | | | |
|-------------|--------------|--------|
| ① デザイン | ② 新しいスライド | ③ 切り替え |
| ⑤ スライドのデザイン | ④ スライドのレイアウト | |

問5 次の音声・動画技術に関する各問いに答えよ。

(1) 一般的に映画は1秒間に 36 コマ表示され、テレビは1秒間に 37 コマ表示されている。

- ① 12 ② 24 ③ 30 ④ 60

(2) CDが最大 38 分の音声を記録することができる。

- ① 30 ② 60 ③ 74 ④ 88

(3) 市販のDVDには 38 というファイル形式で動画像が記録されている。

- ① MPEG-1 ② MPEG-2 ③ MPEG-3 ④ MPEG-4

(4) ビデオ編集ソフトウェアで、素材に使う動画データを 39 という。

- ① ストリーミング ② テロップ ③ ウェーブ ④ クリップ

(5) ビデオ編集ソフトウェアで、別々の動画をひとつにつないでいく作業を 40 という。

- ① クリップ編集 ② テロップ編集 ③ カット編集 ④ ミディ編集

(6) 映画フィルムなどで、音声が入っている部分を 41 という。

- ① ウェーブ ② サウンドトラック ③ フェードイン ④ ミディ

(7) 画面が徐々に現れてくる特殊効果を 42 効果という。

- ① ウェーブ ② サウンドトラック ③ フェードイン ④ ミディ

(8) できあがった動画をDVDに保存しDVDプレーヤーで再生できる状態にするには 43 ソフトウェアを使う。

- ① スクロール ② ミディ ③ ライティング ④ プレゼンテーション

問6 以下の電子商取引の説明に一致する用語を下の語群から選べ。

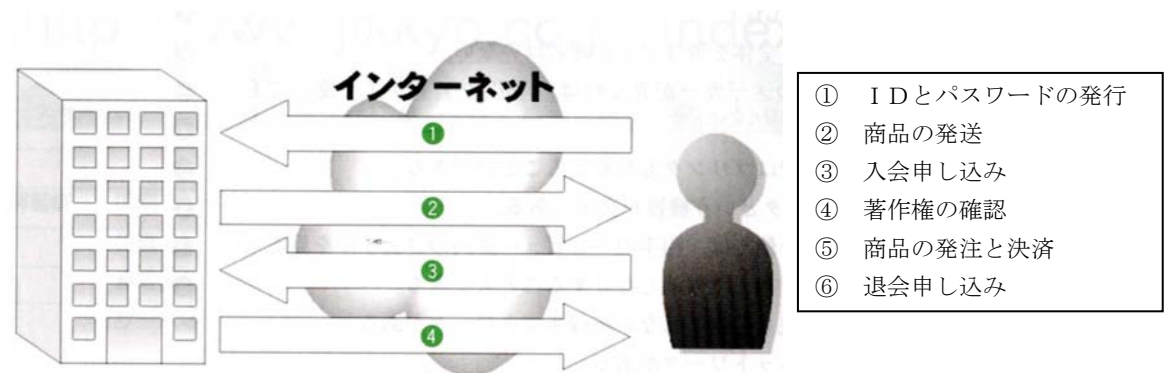
(1) 株などの証券取引を行うこと。 44

(2) 銀行等の金融機関のサービスを利用すること。 45

(3) 遠隔地の相手と対戦もしくは強調して遊ぶゲームのこと。 46

- | | | |
|---------------|-------------|--------------|
| ① オンラインショッピング | ② オンライントレード | ③ オンラインバンキング |
| ④ オンラインオークション | ⑤ オンラインゲーム | ⑥ オンラインストア |

問7 下の図はオンラインショッピングのしくみについて示したものです。番号に該当する説明を右の語群から選べ。 ①... 47 、②... 48 、③... 49 、④... 50



- | |
|---------------|
| ① IDとパスワードの発行 |
| ② 商品の発送 |
| ③ 入会申し込み |
| ④ 著作権の確認 |
| ⑤ 商品の発注と決済 |
| ⑥ 退会申し込み |